


# いくらか計算しましょう

今日はパン屋に来ました。以下の問題に答えましょう

実施日 年 月 日 名前 ( )



食パン  
300円



あんパン  
150円



クリームパン  
130円



ピザ  
180円



メロンパン  
110円



サンドイッチ  
200円



カレーパン  
160円



ドーナツ  
60円

① パン屋で以下の数だけ買いました。  
合計金額を計算しましょう

食パン 1斤で( )円  
クリームパン 2個で( )円  
ピザ 2切で( )円  
カレーパン 3個で( )円  
ドーナツ 5個で( )円

合計金額( )円

② 予算2,500円で何を何個買いますか?  
合計金額とおつりを計算しましょう


食パン ( )斤×( )円  
あんパン ( )個×( )円  
クリームパン ( )個×( )円  
ピザ ( )切×( )円  
メロンパン ( )個×( )円  
サンドイッチ ( )個×( )円  
カレーパン ( )個×( )円  
ドーナツ ( )個×( )円

合計金額( )円  
2,500円出したときのおつり  
( )円

# いくらか計算しましょう 解答

今日はパン屋に来ました。以下の問題に答えましょう

実施日 年 月 日 名前 ( )




食パン  
300円



あんパン  
150円



クリームパン  
130円



ピザ  
180円



メロンパン  
110円



サンドイッチ  
200円



カレーパン  
160円



ドーナツ  
60円

① パン屋で以下の数だけ買いました。  
合計金額を計算しましょう

食パン	1斤で(	300	)円
クリームパン	2個で(	260	)円
ピザ	2切で(	360	)円
カレーパン	3個で(	480	)円
ドーナツ	5個で(	300	)円

合計金額( 1,700 )円

② 予算2,500円で何を何個買いますか?  
合計金額とおつりを計算しましょう

食パン	( )斤×( )円
あんパン	( )個×( )円
クリームパン	( )個×( )円
ピザ	( )切×( )円
メロンパン	( )個×( )円
サンドイッチ	( )個×( )円
カレーパン	( )個×( )円
ドーナツ	( )個×( )円

合計金額( )円  
2,500円出したときのおつり  
( )円